

1. Calcule las integrales $\int_{\gamma} f(z) dz$ en los siguientes casos:

- a) $f(z) = \operatorname{Re}(z)$ y γ el triángulo de vértices $\{0, 1 + i, 2\}$ orientado negativamente.
- b) $f(z) = \bar{z}$ y γ la curva de la figura 1.
- c) $f(z) = |z|\bar{z}$ y γ la curva de la figura 1.

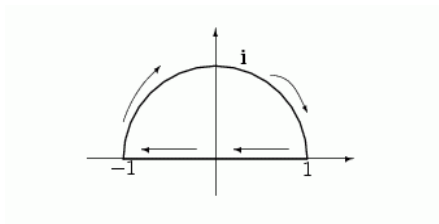


Figura 1

- d) $f(z) = z/\bar{z} dz$ y γ la curva de la figura 2.

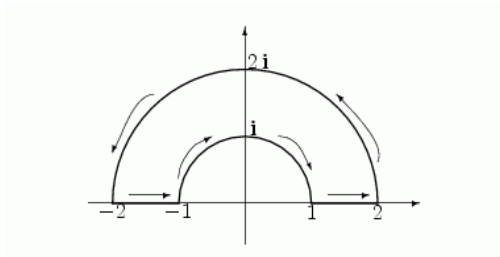


Figura 2

- e) $f(z) = z^4$ y γ la curva representada en la figura 3, que une los puntos $z_0 = -P + 0i$ y $z_1 = P + 0i$, siendo $P = 8\pi$.

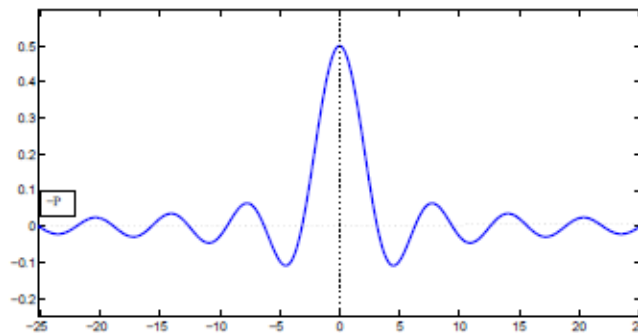


Figura 3

f) $f(z) = ze^z$ y $\gamma(t) = t^2 + it$, con $t \in [0, \frac{4}{3}]$.

g) $f(z) = \text{sen}(\bar{z})$ y γ la curva representada en la figura 4.

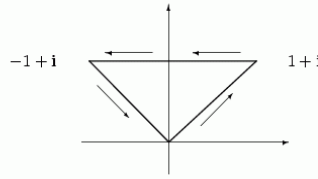


Figura 4

2. Calcule la integral $\int_{\gamma} \frac{1}{z-z_0} dz$, siendo $\gamma(t) = e^{it}$, $t \in [0, 2\pi]$ en cada caso:

a) Para $|z_0| > 1$

b) Para $|z_0| < 1$

3. Calcule las siguientes integrales:

a) $\int_{\gamma} \frac{\text{sen}(e^z)}{z} dz$, $\gamma(t) = e^{it}$, $t \in [0, 2\pi]$.

b) $\int_{\gamma} \frac{e^{1/z}}{(z-1)^2} dz$, $\gamma(t) = 1 + \frac{e^{it}}{2}$, $t \in [0, 2\pi]$

c) $\int_{\gamma} \frac{ze^z}{(z-i)^3} dz$, $\gamma(t) = i + e^{it}$, $t \in [0, 2\pi]$

4. Calcule para $r > 1$ el valor de la integral

$$\int_{\gamma} \frac{z}{z^4 - 1} dz, \quad \gamma(t) = r + re^{it}, \quad t \in [0, 2\pi]$$

5. (*) Sea γ la elipse de ecuación $\frac{x^2}{a^2} + \frac{y^2}{b^2} = 1$. Sabiendo que $\int_{\gamma} \frac{1}{z} dz = 2\pi i$ compruebe que

$$\int_0^{2\pi} \frac{1}{a^2 \cos^2 t + b^2 \text{sen}^2(t)} dt = \frac{2\pi}{ab}$$

6. Calcule la integral

$$\int_{\gamma} \frac{e^z}{z(1-z)^3} dz$$

a) Para $\gamma(t) = re^{it}$, $t \in [0, 2\pi]$ con $0 < r < 1$.

b) Para $\gamma(t) = 1 + re^{it}$, $t \in [0, 2\pi]$ con $0 < r < 1$.

c) Para $\gamma(t) = re^{it}$, $t \in [0, 2\pi]$ con $1 < r$.

7. Calcule la integral:

$$\int_{\gamma} \frac{1}{z^2 + 9} dz$$

- a) Para $\gamma(t) = 3i + e^{it}$, $t \in [0, 2\pi]$
- b) Para $\gamma(t) = -2i + 2e^{it}$, $t \in [0, 2\pi]$
- c) Para $\gamma(t) = 4e^{it}$, $t \in [0, 2\pi]$
- d) Para $\gamma(t) = e^{it}$, $t \in [0, 2\pi]$

8. Calcule el valor de la integral $\int_{\gamma} \frac{1}{z} dz$ siendo γ la curva de la figura 5.

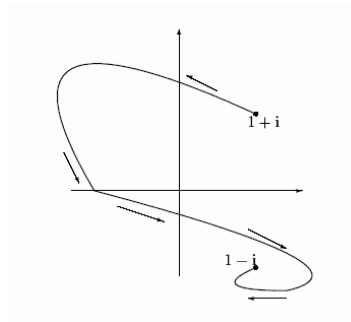


Figura 5

9. Sea γ el contorno del dominio entre $|z| = 4$ y el cuadrado cuyos lados están en las rectas $x = \pm 1$, e $y = \pm 1$. Suponiendo γ orientado positivamente, justifica que $\int_{\gamma} f(z) dz = 0$ para:

a) $f(z) = \frac{1}{3z^2 + 1}$ b) $f(z) = \frac{z + 2}{\cos \frac{z}{2}}$ c) $f(z) = \frac{z}{1 - e^z}$

10. Calcule el valor de la integral:

$$\int_{\gamma} \cos\left(\frac{1}{z + 2i}\right) dz$$

donde γ es la elipse centrada en el origen de semiejes 2 y 1 y recorrida en sentido positivo.

11. Calcula el valor de la integral $\int_{\gamma} \bar{z} |z|^2 dz$, siendo γ la curva de la figura 6.

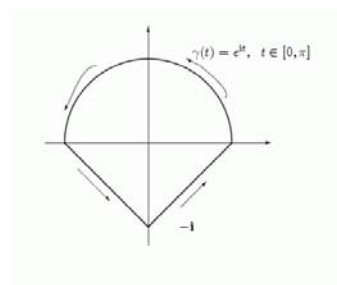


Figura 6

(*) Ejercicios con dificultad especial.

©Silvestre Paredes Hernández®